

$(A \cos \theta, b \sin \theta, C+1), (\alpha, \beta, C)$ ($-A \leq \alpha \leq A, -b \leq \beta \leq b$) を通る直線と $z=0$ の平面の交点 (X, Y) の存在可能領域を求めよ。

直線の方程式は $(x, y, z) = (A \cos \theta, b \sin \theta, C+1) + k(\alpha - A \cos \theta, \beta - b \sin \theta, -1)$

$z=0$ のとき $k=C+1$

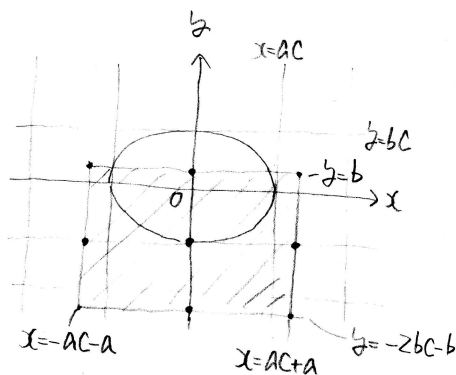
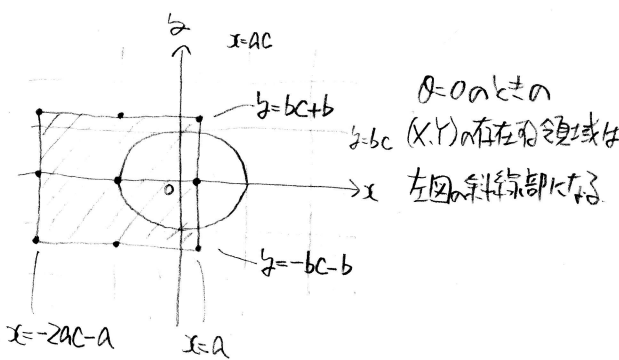
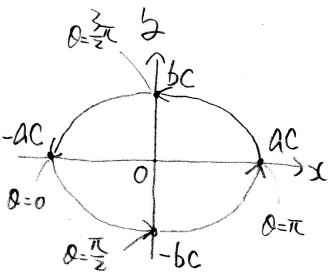
$x = A \cos \theta + \alpha C - AC \cos \theta + \alpha - A \cos \theta = -AC \cos \theta + \alpha(C+1)$

$y = b \sin \theta + \beta C - bC \sin \theta + \beta - b \sin \theta = -bC \sin \theta + \beta(C+1)$ であり

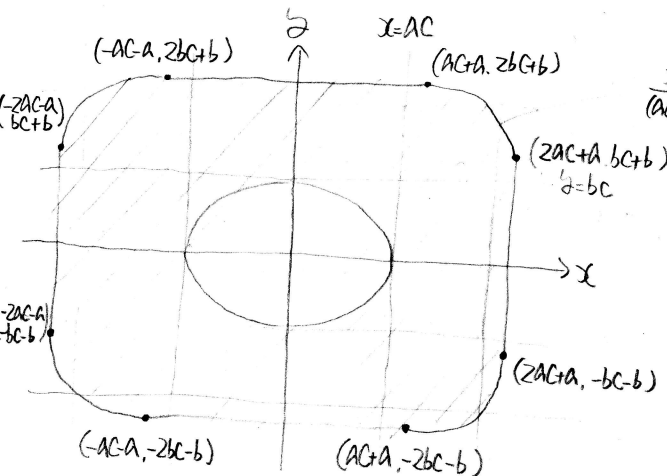
$-AC \cos \theta - A(C+1) \leq x \leq -AC \cos \theta + A(C+1)$

$-bC \sin \theta - b(C+1) \leq y \leq -bC \sin \theta + b(C+1)$

$\begin{pmatrix} x \\ y \end{pmatrix} = \begin{pmatrix} -AC \cos \theta \\ -bC \sin \theta \end{pmatrix}$ ($0 \leq \theta < 2\pi$) の軌跡は楕円である。左図のおよびになる。



$\theta = \frac{\pi}{2}$ のときの (X, Y) の存在可能領域は左図の斜線部になる。



$\frac{x^2}{(AC)^2} + \frac{y^2}{(bc)^2} = 1$ ($x \geq 0, y \geq 0$) とき x 方向に $AC+A$, y 方向に $bc+b$ 平行移動したの

影の通過可能部分は上図の斜線部になる

面積は $4(2AC+A)(2bc+b) - (4ACbc - \pi ACbc)$
 $= 4(4ABC^2 + 2AbC + 2AbC + ab - abc^2) + \pi ABC^2$
 $= 4(3ABC^2 + 4AbC + ab) + \pi ABC^2$
 $= 4ab(3C^2 + 4C + 1) + \pi ABC^2$