

(1) $\vec{BA} = (a, -b)$

CはBAをBを中心として $\frac{\pi}{3}$ 回転したときのAの位置。Cの座標は

$$\begin{pmatrix} 0 \\ b \end{pmatrix} + \begin{pmatrix} \cos \frac{\pi}{3} & -\sin \frac{\pi}{3} \\ \sin \frac{\pi}{3} & \cos \frac{\pi}{3} \end{pmatrix} \begin{pmatrix} a \\ -b \end{pmatrix} = \begin{pmatrix} 0 \\ b \end{pmatrix} + \begin{pmatrix} \frac{1}{2}a + \frac{\sqrt{3}}{2}b \\ \frac{\sqrt{3}}{2}a - \frac{1}{2}b \end{pmatrix} = \begin{pmatrix} \frac{1}{2}a + \frac{\sqrt{3}}{2}b \\ \frac{\sqrt{3}}{2}a + \frac{1}{2}b \end{pmatrix}$$

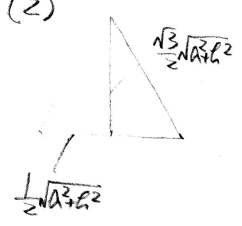
$0 \leq \frac{1}{2}a + \frac{\sqrt{3}}{2}b \leq 1 \Rightarrow \frac{1}{2}a + \frac{\sqrt{3}}{2}b \leq 1, b \geq -\frac{1}{\sqrt{3}}a \Rightarrow b \leq -\frac{1}{\sqrt{3}}a + \frac{2}{\sqrt{3}} \quad \text{--- (1)}$

$0 \leq \frac{\sqrt{3}}{2}a + \frac{1}{2}b \leq 1 \Rightarrow \frac{\sqrt{3}}{2}a + \frac{1}{2}b \leq 1, b \geq -\sqrt{3}a \Rightarrow b \leq -\sqrt{3}a + 2 \quad \text{--- (2)}$

①②, $0 \leq a \leq 1, 0 \leq b \leq 1$ とおけばよいから

(a, b)の範囲は左図のようになる。

(2)



辺の長さは $\sqrt{a^2+b^2}$ の正三角形の面積は $\frac{\sqrt{3}}{4} \sqrt{a^2+b^2}^2 = \frac{\sqrt{3}}{4} (a^2+b^2)$ とおける。

a^2+b^2 が最大となる(a, b)を求めたい。

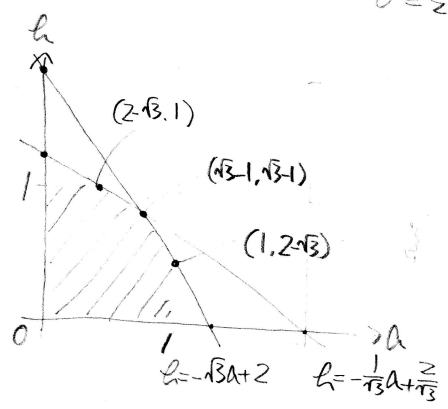
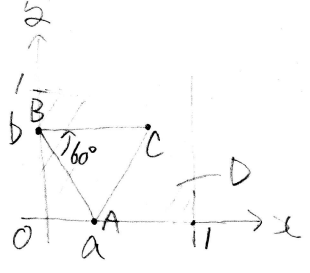
(1)より a^2+b^2 が最大となるのは (a, b) = (2-√3, 1), (√3-1, √3-1), (1, 2√3) のときである。

(a, b) = (2-√3, 1) のとき $a^2+b^2 = 4 - 4\sqrt{3} + 3 + 1 = 8 - 4\sqrt{3}$.

(a, b) = (√3-1, √3-1) のとき $a^2+b^2 = 2(3 - 2\sqrt{3} + 1) = 8 - 4\sqrt{3}$ とおける。

求める(a, b)は (a, b) = (2-√3, 1), (√3-1, √3-1), (1, 2√3)

これらのSの値は $\frac{\sqrt{3}}{4} (8 - 4\sqrt{3}) = -3 + 2\sqrt{3}$



$-\sqrt{3}a + 2 = -\frac{1}{\sqrt{3}}a + \frac{2}{\sqrt{3}}$
 $-\sqrt{3}a + 2\sqrt{3} = -a + 2$
 $2\sqrt{3} - 2 = 2a, a = \sqrt{3} - 1$
 $b = -\sqrt{3}(\sqrt{3} - 1) + 2 = -3 + \sqrt{3} + 2 = \sqrt{3} - 1$